

Занятие 18

1. Сравни.


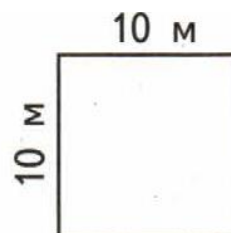
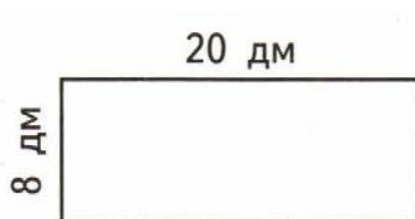
$24 \cdot 3 \bigcirc 82$

$64 : 4 \bigcirc 16$

$16 \cdot 4 \bigcirc 68$

$93 : 3 \bigcirc 33$

2. Пользуясь чертежами, составь выражения для нахождения периметра и площади и найди их значения.



3. Вычисли значения выражений.

$56 : 7 = \square$

$56 : 2 = \square$

$48 : 6 = \square$

$48 : 3 = \square$

$72 : 9 = \square$

$72 : 4 = \square$

4. Турист от леса к озеру прошёл 45 км, а от озера до деревни – 9 км. Во сколько раз короче путь от озера до деревни, чем путь от леса до деревни?



